



Rallye mathématiques

Circonscriptions
de Dieppe Est - Dieppe Ouest
Darnétal et Neufchâtel


logique





numération

mesures

géométrie

GS





	est	sous		
		au-dessus du	✓	
	est	à droite de		
		à gauche de	✓	

	est	sur	✓	
		sous		

	est	devant	✓	
		derrière		

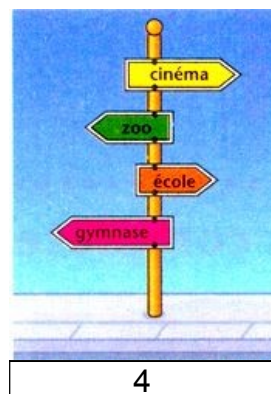
	est	entre	✓	 et 
		au-dessus		

	est	devant		
		derrière	✓	

CP



Ecris les numéros de carrefours où se trouvent ces panneaux indicateurs.



CE1



Le plan d'un quartier et d'une ville

Le plan et la photo ont la même orientation.

Ecris le nom de l'avenue dans laquelle la photo a pu être prise : avenue de la Grande - Armée, avenue Kléber

avenue Kléber	
avenue de la Grande - Armée	

Sur la photo, on voit un bus jaune. Dans quelle avenue est-il garé ?

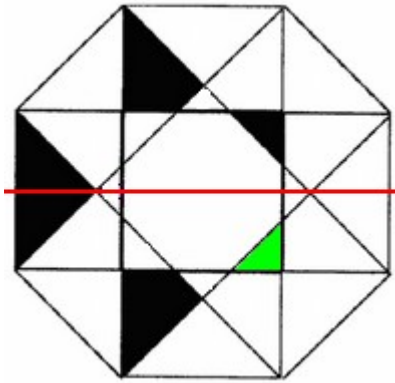
Le bus est garé Avenue des champs Elysées

Ecris le nom des 2 avenues qui ne figurent pas sur le plan.

- Avenue Foch
- Avenue d'Iéna
- Avenue de la République
- Avenue Mac-Mahon
- Avenue Marceau
- Avenue de Suffren
- Avenue de Wagram

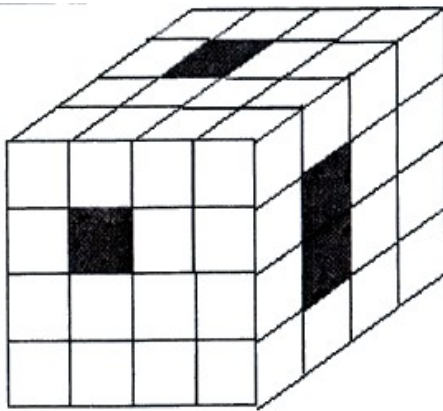
CE2

NOIR C'EST NOIR



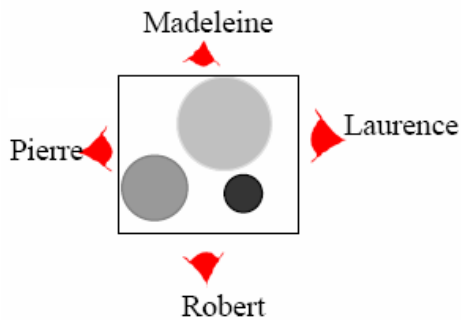
Il fallait colorier la case 18. Nous avons tracé l'axe de symétrie en rouge.

CM1



Ce cube est formé de 50 cubes blancs et de 14 cubes noirs.

CM2



Laurence, Madeleine, Pierre et Robert sont assis autour de la table sur laquelle sont posés trois cylindres de tailles et de couleurs différentes.

Pour chaque personne indiquez l'image du tableau ci-dessous qui représente ce qu'il voit de l'endroit où il se trouve (indiqué par la marque rouge).

in rallye mathématique IUFM Midi Pyrénées

Laurence	C
Madeleine	I
Pierre	H
Robert	G

