



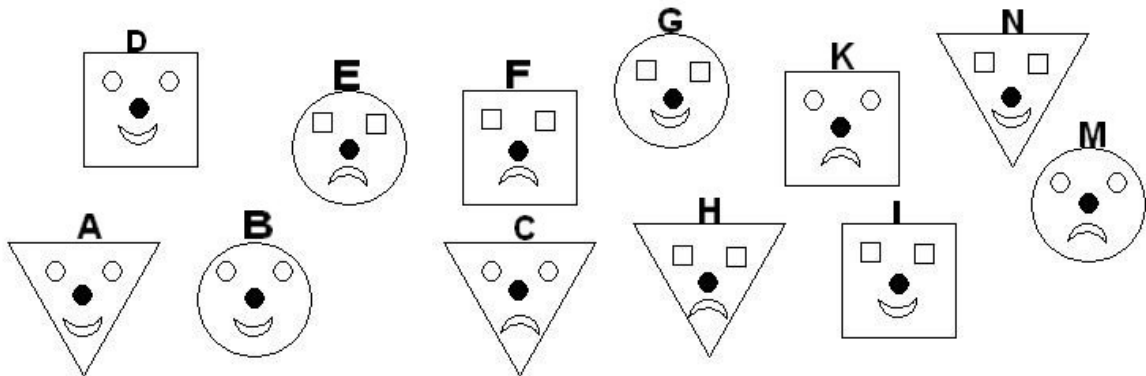
logique

numération

mesures

géométrie

GS




Bas les masques

J'ai perdu mon masque.

- As-tu un masque carré? **NON !**
- Es-tu souriant? **OUI !**
- As-tu les yeux de la même forme que ton masque? **OUI !**

Voici tous les masques, retrouvez le mien à l'aide des réponses aux questions.








CP



Ecris le nom du coupable

Le coupable à lunettes porte un chapeau.
Il a une moustache mais n'a pas de barbe.

**CE
1**



A l'aide des indices ci-dessous, il vous faut retrouver le bon drapeau.

Vous savez que :

a) Chaque bande est de couleur différente.

b) Le blanc n'est ni à côté du bleu, ni à côté du rouge.

c) Le jaune n'est ni à côté du bleu, ni à côté du vert.

d) Le bleu et le rouge ne se touchent pas.

e) Le vert est à gauche du rouge.

Lequel de ces drapeaux est-ce ?

CE2



J'ai donné la moitié de mon paquet de plumes de phoenix à ma soeur Hida et deux plumes à mon grand-oncle, l'ogre Monstros. Il me reste quatre plumes.

Combien de plumes mon paquet contenait-il?


CM1

Nombre en cases

Cette grille contient 8 nombres de 4 chiffres : 4 horizontaux et 4 verticaux.

Place les nombres : 1597, 7254, 3715, 6434, 3416, 4286, puis trouve les deux autres nombres.

CM2



Ce livre est constitué de trois séries de 24 bandes que l'on peut tourner afin de créer des animaux imaginaires : une série de têtes, une série de corps et une série de pattes.

Combien d'animaux différents peut-on créer ?