

MATHÉMA'TIC® 2009



**Réponse
n°1a**

CM2/6ème

Les sucettes

A résoudre pour le lundi 15 décembre 2008

Une sucette coûte :

Justifiez la réponse:

.....

.....

.....

.....

.....

**Réponse
n°1b**

Enigme

CM2/6ème

Moussa a choisi le nombre :

Justifiez la réponse:

.....

.....

.....

.....

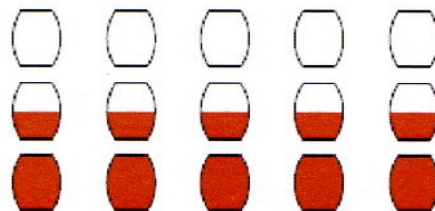
**Réponse
n°1c**

Les tonneaux

CM2/6ème

Indique sur le schéma ci-contre de quelle façon le vigneron va procéder.

- 5 tonneaux vides ;
- 5 tonneaux à moitié pleins ;
- 5 tonneaux pleins.



Justifiez la réponse:

.....

.....

.....

Utilisez la feuille « réponse » pour rédiger votre solution.

**Réponse
n°1d**

Les SudoCubes

CM2/6ème

Complète le patron de ce cube.

										1	3	2
										2	1	3
										3	2	1

**Réponse
n°1e**

Encore des cubes !

CM2/6ème

Le volume A a comme empreinte :

Le volume B a comme empreinte :

Le volume C a comme empreinte :

Le volume D a comme empreinte :

Le volume E a comme empreinte :

Le volume F a comme empreinte :

Le volume G a comme empreinte :

Le volume H a comme empreinte :

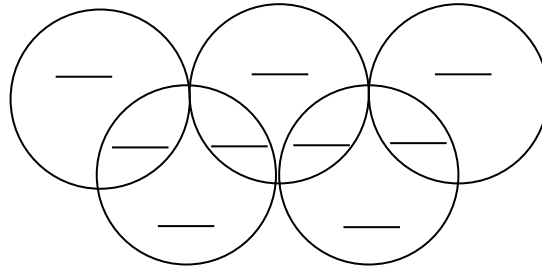
Le volume K a comme empreinte :

**Réponse
n°1f**

Les anneaux olympiques

CM2/6ème

Complète les anneaux olympiques

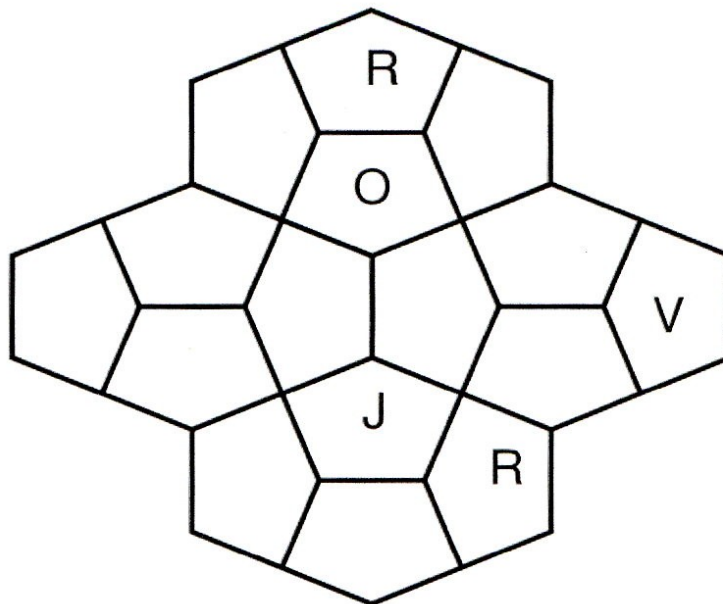


**Réponse
n°1g**

Le pentacoloriage

CM2/6ème

Complète le pentacoloriage.



**Réponse
n°1h**

Les pommes empoisonnées

CM2/6ème

Il y avait pommes dans le panier de la sorcière avant qu'elle ne rencontre les deux garçons.

Justifiez la réponse:

.....
.....
.....
.....
.....
.....

**Réponse
n°1i**

Test de Yang Sun

CM2/6ème

Il y a voleurs qui se séparent rouleaux de tissus.

Justifiez la réponse:

.....
.....
.....
.....
.....

**Réponse
n°1j**

**Quand un Mathieu rencontre un
matheux...**

CM2/6ème

Si je disais 2 et 7 que me répondrait Mathieu ?

Mathieu me répondrait :

Justifiez la réponse:

.....
.....
.....
.....
.....